

WEEKPLANNING : 4DE LEERJAAR

Week 21 : 18 tot 22 mei 2020

Belangrijke info voor deze week :

- Deze week zullen al de oefeningen in werkschrift C van wiskunde ingevuld zijn. Dit werkschrift mag je samen met de bundel (als de opdracht van W.O. af is) volgende week maandag 25 mei 2020 binnenbrengen op school.
- Ook deze bundel bevat een stappenplan voor klokkezen. Bewaar dit stappenplan voor de volgende weken.

 Zie je dit symbool bij een opdracht staan? Dan is er een live-sessie voorzien.

Ga naar de startpagina van smartschool. Links vind je een balk 'Mijn vakken'. Onder die balk klik je op 'wiskunde' of 'vragenuurtje'. Daarna verschijnt er opnieuw links een werkbalk. Klik hier op 'Live' en daarna deelnemen aan live-sessie!

We verwachten dat iedereen deelneemt aan de live-sessie!

 Zie je dit symbool bij een opdracht staan? Dan vind je een (instructie)filmpje op smartschool of op de website.





Ga naar 'Mijn vakken', doorklikken op het vak, daarna klikken op 'vaknieuws'.

 Zie je dit symbool bij een opdracht staan? Stuur dan een foto van deze oefening naar je leerkracht:

4A: ingrid.maris@scheppers-mechelen.be
 4B: koen.serneels@scheppers-mechelen.be
 4C: cindy.goyvaerts@scheppers-mechelen.be of via smartschool.

 Zie je dit symbool bij een opdracht staan? Dan staat er een online-oefening klaar op smartschool.

Ga naar 'Mijn vakken', doorklikken op het vak, daarna klikken op 'Oefeningen'. Klik steeds op de oefening van jouw meester of juf.

MAANDAG	
 18 mei 2020	
 Les	 Klaar?
<u>Wiskunde</u> Herhaling sprong 10 WS (C)p. 93 Lukt het niet? Zie les 121-122 en nnb. p 13 en 17	
<u>Taal</u> Saboteurs?! TB p. 63-67 WS p. 107-109 oef 1-7+▲ oef 1 en oef 7 	
<u>W.O.</u> Hoe maak je het? Bundel p. 6-7 Voor deze opdracht hebben we volgende week ook nog tijd voorzien.	










DINSDAG	
 19 mei 2020	
 Les	 Klaar?
<u>Wiskunde</u> Herhaling sprong 10 WS (C)p. 94 Lukt het niet? Zie les 122, 124, 127 en nnb p 15, 21-33 en 39-43	
<u>Taal</u> Krijg jij ook zin om te reizen? WS p. 110 oef 1-5	
<u>Wiskunde</u> Digitale klok tot 5 min. Bundel p. 3-4	

WEEKPLANNING : 4DE LEERJAAR

Week 21 : 18 tot 22 mei 2020

Belangrijke info voor deze week :

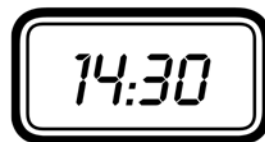
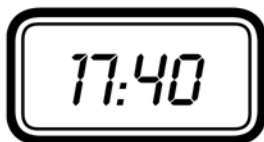
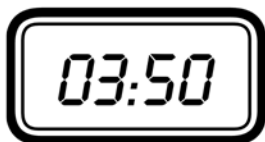
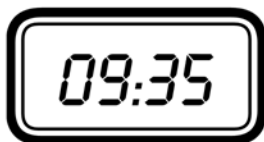
- Deze week zullen al de oefeningen in werkschrift C van wiskunde ingevuld zijn. Dit werkschrift mag je samen met de bundel (als de opdracht van W.O. af is) volgende week maandag 25 mei 2020 binnenbrengen op school.
- Ook deze bundel bevat een stappenplan voor kloklezen. Bewaar dit stappenplan voor de volgende weken.

WOENSDAG  20 mei 2020		DONDERDAG  21 mei 2020		VRIJDAG  22 mei 2020	
 Les	 Klaar?	 Les	 Klaar?	 Les	 Klaar?
<p><u>Wiskunde</u> Herhaling sprong 10 WS (C) p 95-96 Lukt het niet? Zie les 120, 123, 124, 125, 126 en nbn p. 45, 47, 57, 64, 70</p>		<p>O.L.H.Hemelvaart Vrije dag</p>		<p>Vrije dag</p>	
<p><u>Spelling</u> Werkwoorden 8 Bundel p. 5</p>					
<p><u>Beeld</u> Escher Bekijk de presentatie, die je vindt bij 'Mijn vakken', Beeld</p>					

Naam:



kwart over 6




Naam:




half 7 's ochtends

.....



10 over 4 's middags

.....



10 over 9 's avonds

.....



kwart voor 6 's middags

.....




20 voor 6 's middags

.....




5 over 9 's avonds

.....




20 over 7 's avonds

.....




25 over 8 's ochtends

.....




20 voor 5 's middags

.....




11 uur 's avonds

.....



25 over 9 's avonds

.....



5 over 4 's middags

.....

Werkwoorden 8

1. (vinden) Ik _____ jouw tekening mooi.
2. (worden) Hij _____ een goede speler.
3. (spelen) De leerlingen _____ goed samen.
4. (antwoorden) Mohamed heeft al weken niet _____.
5. (maken) De juf _____ filmpjes.
6. (drinken) _____ jij graag koffie?
7. (gaan) De leerlingen van het 4de _____ nog niet naar school.
8. (springen) Hij _____ een gat in de lucht.
9. (vieren) Soraya _____ haar verjaardag thuis.
10. (houden) Papa _____ heel veel van mij.
11. (verbeteren) Het weer _____ elke dag.
12. (antwoorden) Waarom _____ je zelf niet?
13. (vliegen) Het vliegtuig _____ net op tijd.
14. (niezen) Je _____ omdat je verkouden bent.
15. (vechten) De gewonde krijger _____ als een leeuw.

Hoe maak je het?

Kijk naar het volgende filmpje. Hier kan je het productieproces bekijken van kaas.

<https://schooltv.nl/video/kaas-maken-100-liter-melk-voor-1-kaas/#q=hoe%20maak%20je%20kaas>

Zoek op:

Wat is een productieproces?

Wat zijn grondstoffen?

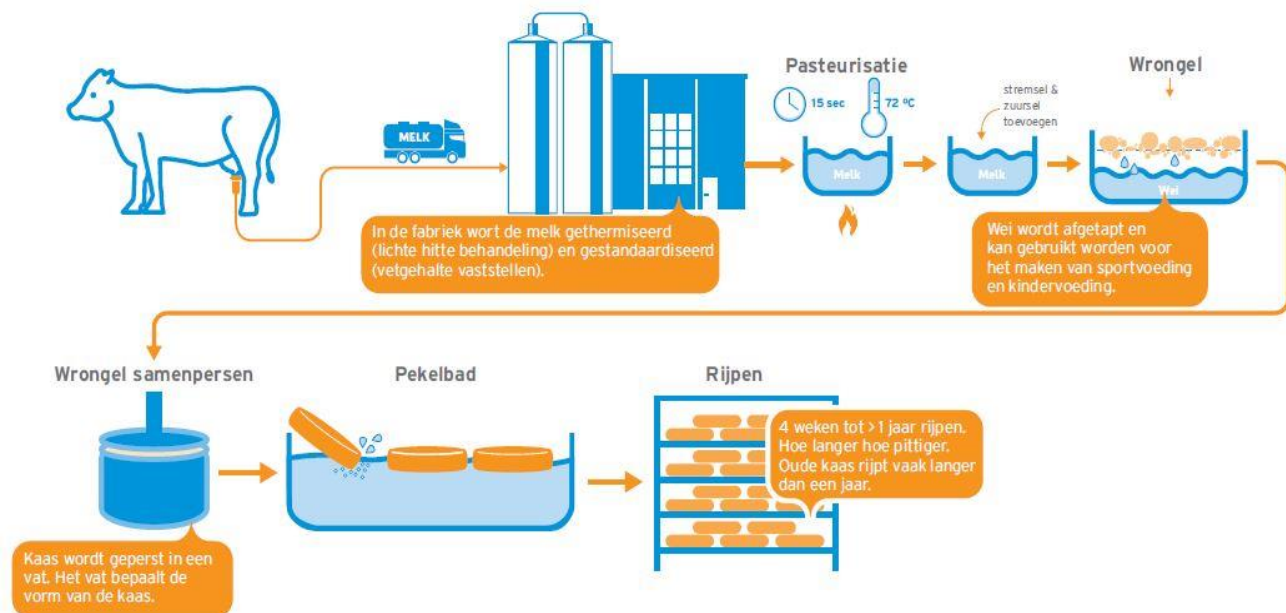


Voorbeeld van een productieproces:

Productieproces kaas:

Grondstoffen: melk

Proces in schema:



Beroepen nodig om kaas te maken: boer, chauffeur, fabrieksmedewerker, verkoper

OPDRACHT: Bekijk één van de volgende filmpjes. Maak nu zelf een overzicht van het productieproces. Gebruik hiervoor het schema.

Brood: <https://schooltv.nl/video/brood-hoe-wordt-het-eigenlijk-gemaakt/>

Papier: <https://schooltv.nl/video/papier-hoe-wordt-het-eigenlijk-gemaakt/>

Chocolade: <https://www.youtube.com/watch?v=6Vacanr6z0s>

Chips: <https://schooltv.nl/video/chips-hoe-wordt-het-eigenlijk-gemaakt/#q=chips>

Productieproces van _____

Grondstoffen:

Schema van het productieproces:

Beroepen nodig om _____ te maken:

Digitale klok lezen



uur : min

KIJK EERST NAAR DE MINUTEN.

1. Is het aantal minuten groter dan 30?

Schrijf 'voor'.

2. Hoeveel voor?

Doe 60 min – het aantal minuten dat je leest.

Schrijf hoeveel minuten voor.

KIJK NU NAAR HET UUR.

3. - UUR KLEINER DAN 12

Schrijf het uur dat gaat komen in de voormiddag

- UUR GROTER DAN 12

Doe het uur – 12

Schrijf het uur dat gaat komen in de namiddag

KIJK EERST NAAR DE MINUTEN

1. Is het aantal minuten kleiner dan 30?

Schrijf 'over'

2. Hoeveel over?

Schrijf hoeveel minuten over.

KIJK NU NAAR HET UUR

3. - UUR KLEINER DAN 12

Schrijf het uur dat voorbij is in de voormiddag

- UUR GROTER DAN 12

Doe het uur – 12

Schrijf het uur dat voorbij is in de namiddag

Digitale klok invullen



uur : min

VOOR

VUL EERST HET UUR IN

1. - IN DE VOORMIDDAG

Schrijf het uur dat voorbij is.

- IN DE NAMIDDAG

Welk uur is voorbij?

Doe dat uur +12.

VUL NU DE MINUTEN IN

2. Hoeveel minuten?

Doe 60 min – het aantal minuten voor.

Schrijf de minuten.

OVER

VUL EERST HET UUR IN

1. - IN DE VOORMIDDAG

Schrijf het uur dat voorbij is.

- IN DE NAMIDDAG

Welk uur is voorbij?

Doe dat uur +12.

VUL NU DE MINUTEN IN

2. Hoeveel minuten?

Schrijf het aantal minuten over.

